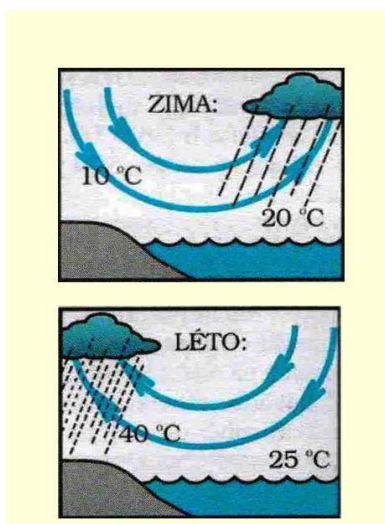


## Atmosféra V.

### Pracovní list

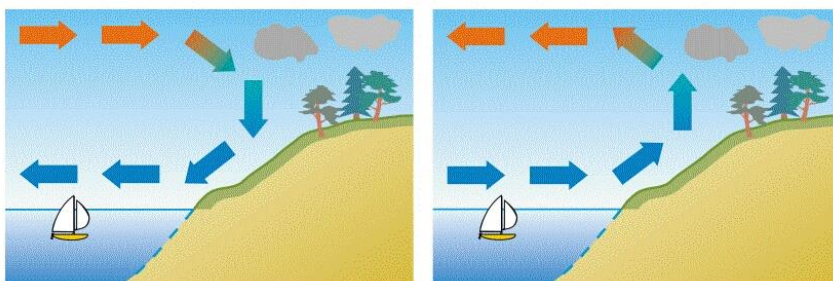
#### Vítr na Zemi

- Obrázek znázorňuje sezónní vítr. Napiš jeho název.....



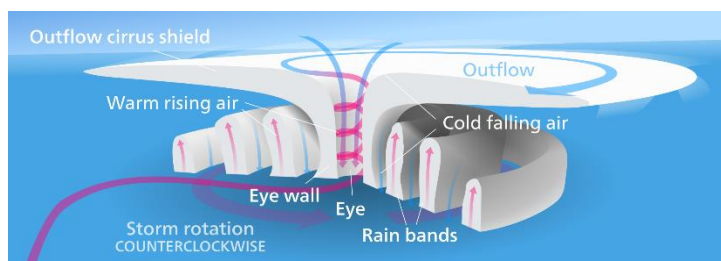
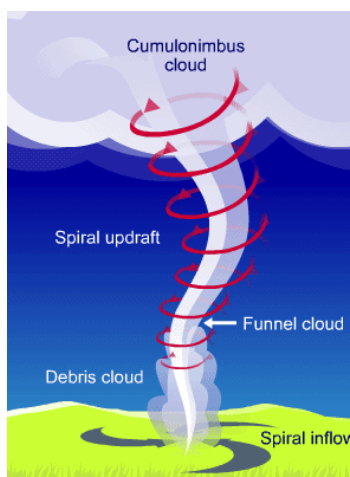
[https://www.google.cz/search?q=monzun&client=opera&hs=INi&source=lnms&tbn=isch&sa=X&ved=0ahUKEwiIfOmu0ZTdAhWDWCwKHceSBbAQ\\_AUICigB&biw=708&bih=522&dpr=1.75#imgrc=gbFjVYg-1ZO-SM:](https://www.google.cz/search?q=monzun&client=opera&hs=INi&source=lnms&tbn=isch&sa=X&ved=0ahUKEwiIfOmu0ZTdAhWDWCwKHceSBbAQ_AUICigB&biw=708&bih=522&dpr=1.75#imgrc=gbFjVYg-1ZO-SM:)

- Obrázek znázorňuje pobřežní vítr, tzv.....  
Do obrázku označ, kdy se jedná o noc, a o den



[https://www.google.cz/search?q=bríza&client=opera&hs=pPi&source=lnms&tbn=isch&sa=X&ved=0ahUKEwji-cb50ZTdAhVMjSwKHefXC0Q\\_AUICigB&biw=1377&bih=1015&dpr=0.9#imgrc=SFoq4BWfZfKsfM:](https://www.google.cz/search?q=bríza&client=opera&hs=pPi&source=lnms&tbn=isch&sa=X&ved=0ahUKEwji-cb50ZTdAhVMjSwKHefXC0Q_AUICigB&biw=1377&bih=1015&dpr=0.9#imgrc=SFoq4BWfZfKsfM:)

- Obrázky znázorní dva silné otáčivé větry. Popiš, jak se jmenují



<https://www.google.cz/search?q=tornado+schema>

<https://upload.wikimedia.org/wikipedia/commons/4/4f/Hurricane-en.svg>